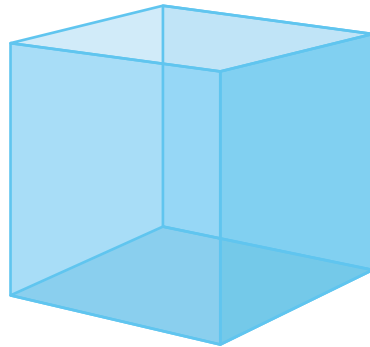
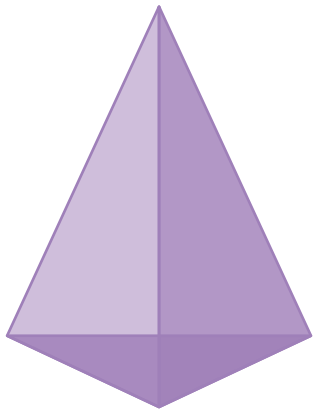

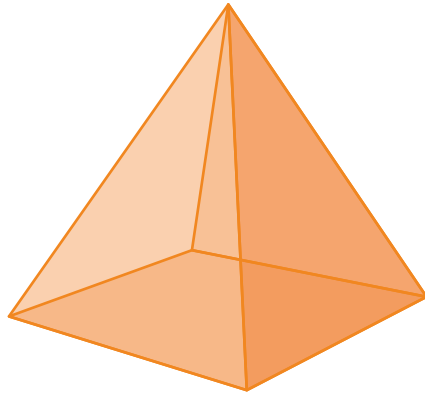


# 立體建築師 Architectural Shapes



1. 以下哪一些形狀是錐體？  
請把它們圈起來。



# 立體建築師 Architectural Shapes



2. 以下圖中的物件是錐體還是柱體？  
請把答案圈起來。



錐體 / 柱體



錐體 / 柱體



錐體 / 柱體

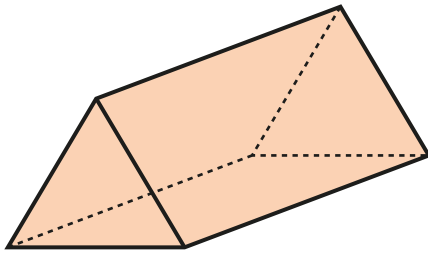


錐體 / 柱體

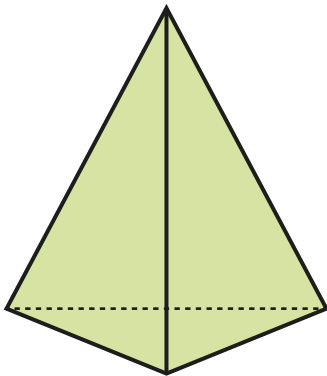
# 立體建築師 Architectural Shapes



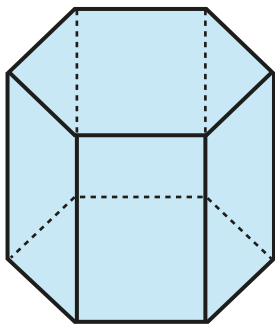
3. 以下立體形狀的模型需要多少枝竹籤和多少粒泥膠組成呢？請把他們數出來。



共需要\_\_\_\_\_枝竹籤和\_\_\_\_\_粒泥膠。



共需要\_\_\_\_\_枝竹籤和\_\_\_\_\_粒泥膠。



共需要\_\_\_\_\_枝竹籤和\_\_\_\_\_粒泥膠。